

Répertoire additif jusqu'à 10

Problèmes multiplicatifs : groupement de quantités égales

Dizaines et unités

Calcul réfléchi, passage par 10

A
B
C

1
2
3 4
5 6

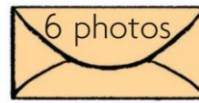

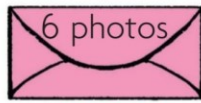
1
2 3 4
5 6

Dico-maths

A Problèmes multiplicatifs



J'ai calculé 3 fois 6,
c'est pareil que $6 + 6 + 6$.
Il y a 18 photos.



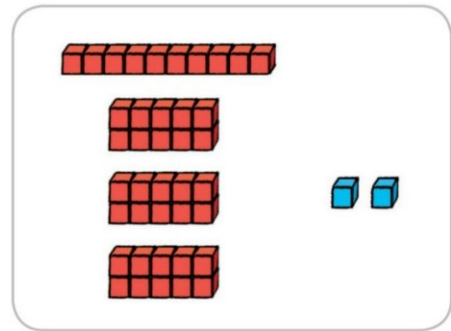
$$\begin{array}{r} 6 + 6 + 6 \\ 12 + 6 \\ 18 \end{array}$$

Dico-maths

B Dizaines et unités

$$\begin{array}{l} 42 \\ \swarrow \quad \searrow \\ 4 \text{ dizaines} \quad \text{et} \quad 2 \text{ unités} \\ \downarrow \\ 10 + 10 + 10 + 10 + 2 \\ \downarrow \\ 40 + 2 \end{array}$$

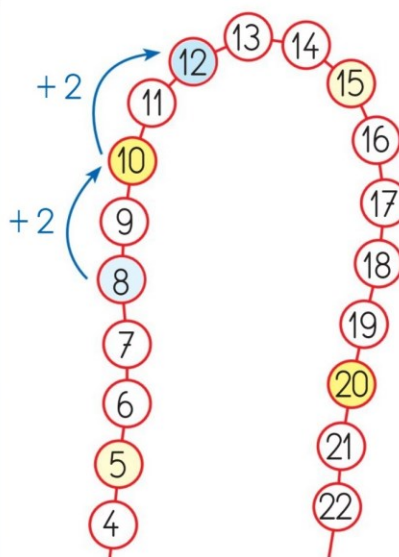
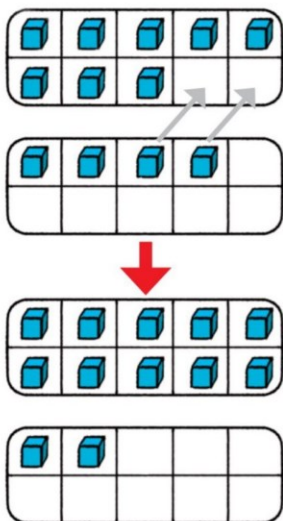
quarante-deux



Dico-maths

C Calcul réfléchi, répertoire additif

$$8 + 4$$



$$\begin{array}{r} 8 + 4 \\ 8 + 2 + 2 \\ 10 + 2 \\ 12 \end{array}$$

$$8 + 4 = 8 + 2 + 2$$

$$8 + 4 = 10 + 2$$

$$8 + 4 = 12$$